

# Tema 3

## Geografía económica

### Ejercicios



1. Relaciona cada uno de los cuatro grandes paisajes agrarios del mapa con sus principales caracteres físicos (clima, relieve o hidrografía).
2. Explica los problemas que presentan, en la actualidad, los minifundios.



El olivar es un ejemplo representativo del cultivo de secano mediterráneo. En España ocupa grandes extensiones de superficie en las provincias de Córdoba y Jaén.



Naranjales en Valencia. Entre los cultivos de regadío destaca el de los cítricos, muy extendidos por la costa mediterránea entre Castellón de La Plana y Almería.

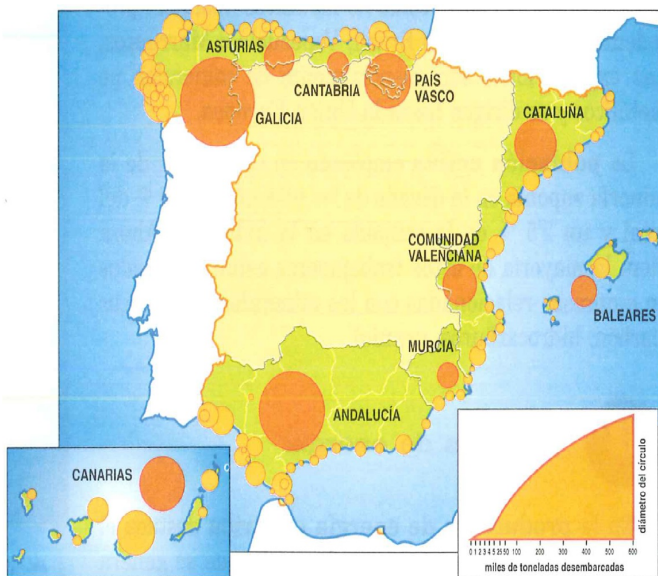


Cultivos de tomate en Canarias.

3. Completa en tu cuaderno el siguiente cuadro de los paisajes agrarios y tipos de cultivo en España.

Paisajes agrarios	Tipos de cultivo

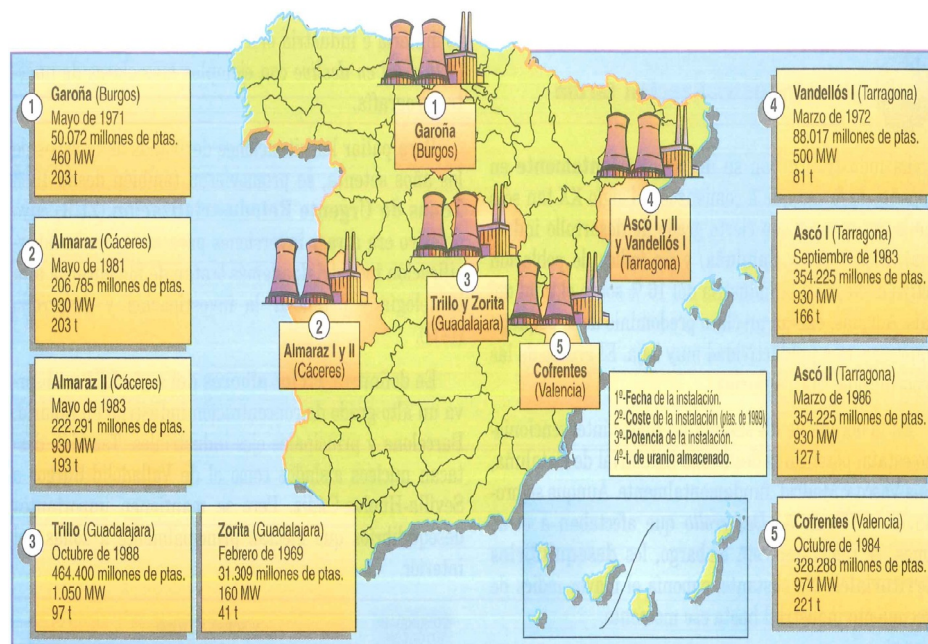
4. ¿Cuál es la diferencia más importante entre la agricultura canaria y la del resto de España?



Distribución espacial del peso de los desembarcos en España.

- ¿Qué sectores de la ganadería española han experimentado un mayor desarrollo en los últimos años? ¿Cuáles se hallan en retroceso?
- ¿Cuál es el principal problema que tiene la flota pesquera española en la actualidad?
- Busca información sobre la acuicultura y elabora un breve informe en el que expliques en qué consiste, qué importancia tiene en España y cuáles son sus perspectivas futuras.





**España. Centrales Nucleares.** El 35 % de la energía producida en España es de origen nuclear. En 1994, mediante la Ley de Ordenación del Sector Eléctrico, el Estado español declaró definitivamente paralizadas las cinco centrales nucleares que estaban en moratoria: Lemóniz 1 - 2, Valdecaballeros 1 - 2 y Trillo.

Energía	Producción interior (%)	Consumo interior (%)	Autoabastecimiento (%)
Carbón	33,4	16,1 *	61,5
Petróleo	1,8	56,6	0,9
Gas natural	1,4	8,6	4,9
Hidráulica	12,2	3,6	100
Nuclear	51,2	15,0	100

8. Explica las razones del importante peso que tienen las centrales térmicas y nucleares en la producción de electricidad en España. ¿Por qué es inferior el de las hidroeléctricas, si es una energía renovable y no contaminante?

9. ¿Dónde se sitúan las plantas de regasificación y por qué?

**Producción y consumo de energía primaria.**



FUENTE: Ministerio de Ciencia y Tecnología.

Distribución de empresas del sector de tecnologías de la información en 1999.

10. Atendiendo al gráfico de la izquierda, ¿qué CC.AA. tienen una mayor concentración industrial de alta tecnología en la actualidad? Apunta alguna razón que explique esta situación.

11. Entre las mayores empresas españolas, ¿qué porcentaje pertenecen al sector servicios y cuál al secundario? Elabora un gráfico sectorial en el que expreses estos dos conceptos.

99	98	GRUPO	SECTOR	INGRES. MILL. de EUROS	PLANTILLA	BENEF. NET.
1	1	Repsol YPF	Energía	28.459	29.807	6.066.0
2	2	Telefónica	Telecomunicaciones	22.957	118.778	1.083.3
3	6	Endesa	Energía	13.494	33.612	7.671.4
4	10	TI Telefónica Internacional España	Telecomunicaciones	9.708	36.332	2.417.5
5	3	El Corte Inglés	Grandes almacenes	9.388	63.112	2.185.7
6	5	Altadis	Act. diversas	8.547	9.424	1.391.2
7	4	Compañía Española de Petróleo	Energía	8.135	9.062	1.526.0
8	8	Fab. de Automóviles Renault España	Vehículos	7.184	14.074	421.7
9	7	Centros Comerciales Carrefour	Grandes almacenes	6.869	35.890	1.196.7
10	9	Iberdrola	Energía	6.250	12.653	4.384.2
11	11	Seat	Vehículos	5.822	14.465	512.0
12	12	Opel España	Vehículos	4.655	9.200	719.7
13	13	Citroën Hispania	Vehículos	4.261	9.050	
14	15	Ford España	Vehículos	4.209	7.498	
15	19	Eroski	Grandes almacenes	3.845	20.750	361.5
16	17	Fomento de Construcciones y Contratas	Const/Inmobiliaria	3.828	46.443	1.519.7
17	16	Volkswagen Audi España	Comerc. de autom.	3.796	226	327.4
18	14	Iberia Líneas Aéreas España	Transporte	3.741	27.090	923.5
19	22	Telefónica Móviles España	Telecomunicaciones	3.739	3.372	3.367.7
20	18	Grupos Dragados	Const/Inmobiliaria	3.582	37.826	640.2

Las veinte primeras empresas españolas en 1999, según los ingresos en millones de eur



Red de trenes de alta velocidad.



El primer AVE (Alta Velocidad Española) fue inaugurado con motivo de la Expo dde 1992 entre

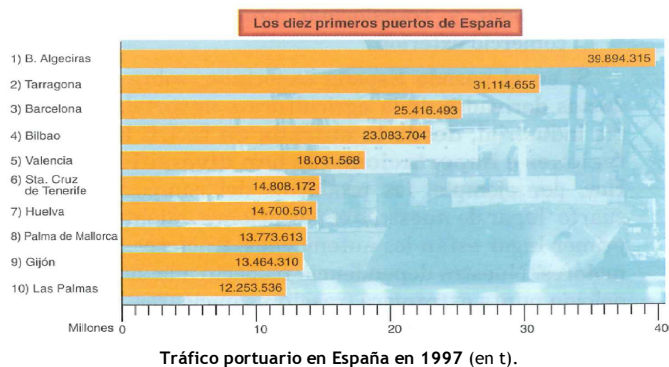


Madrid y Sevilla. En 1998 el AVE y el Talgo transportaron 4.400.000 viajeros.

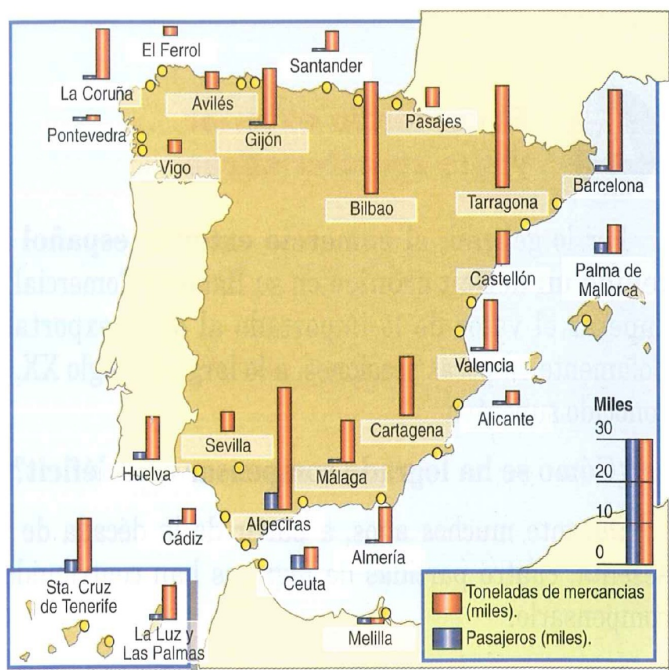
12. Consulta tu atlas y responde a la siguiente cuestión: ¿Qué Comunidades Autónomas tienen conectadas todas las capitales de provincia mediante autovías? Razona tu respuesta.

13. ¿Cuáles son las Comunidades Autónomas mejor conectadas por ferrocarril? Razona tu respuesta.

14. Indica cuáles son las causas por las que el transporte preferido en España es el de carretera.



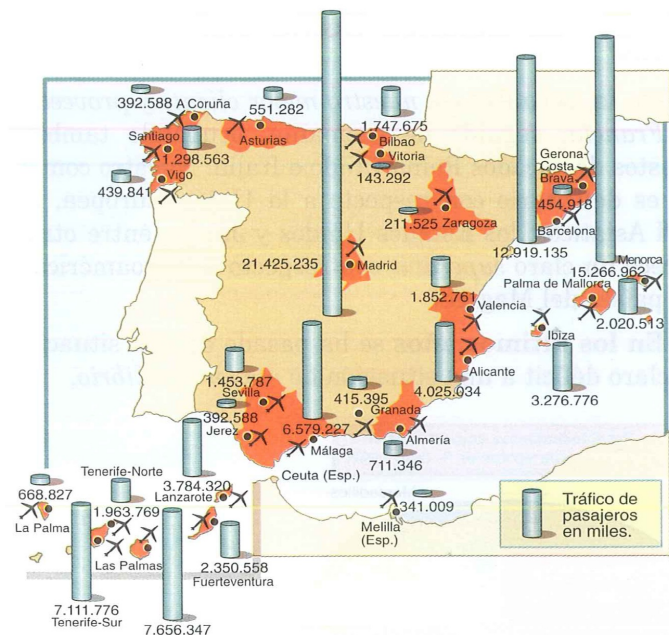
15. Indica el motivo por el cual el puerto de Algeciras es el primero en el tráfico de mercancías y pasajeros en España.



16. ¿Por qué puertos se exportan e importan las mercancías de tu comunidad?

Fuente: Anuario *El País*, 1999.

Los principales puertos españoles. Su tráfico de mercancías y pasajeros en 1997.



17. Según el mapa, ¿qué aeropuertos españoles soportan mayor tráfico de pasajeros? ¿Sabrías indicar el motivo?

18. ¿Por qué hoy se da una auténtica revolución en las telecomunicaciones? ¿Qué efectos tienen sobre el comercio y cualquier otro tipo de actividad económica?

IMPORTACIONES		MILLONES de EUROS	%
Vehículos automóviles, tractores y ciclomotores		24.160,67	23,78
Reactores nucleares, calderas y artefactos mecánicos		18.632,22	18,34
Máquinas y aparatos eléctricos		13.121,97	12,91
Combustibles, aceites y ceras minerales		9.183,25	9,04
Materias plásticas y sus manufacturas		4.500,73	4,43
Fundición, hierro y acero		4.084,80	4,02
Productos químicos orgánicos		3.714,83	3,66

EXPORTACIONES		MILLONES de EUROS	%
Vehículos automóviles, tractores y ciclomotores		24.525,07	32,94
Reactores nucleares, calderas y artefactos mecánicos		9.967,00	13,39
Máquinas y aparatos eléctricos		1.364,18	9,91
Manufacturas de fundición, hierro y acero		3.331,20	4,47
Fundición, hierro y acero		3.250,08	4,37
Muebles		2.451,53	3,29
Combustibles, aceites y ceras minerales		2.341,17	3,14

Principales productos del comercio exterior español.

IMPORTACIONES MILES DE MILLONES DE EUROS		%
PAÍSES		
Francia	24,65	18,14
Alemania	21,38	15,73
Italia	12,54	9,23
Reino Unido	10,18	7,49
EE.UU.	7,40	5,44
Resto OCDE	32,28	23,78

EXPORTACIONES MILES DE MILLONES DE EUROS		%
PAÍSES		
Francia	20,20	19,54
Alemania	13,65	13,21
Italia	9,38	9,07
Reino Unido	8,66	8,38
EE.UU.	4,52	4,37
Resto OCDE	33,64	27,89

Países proveedores y clientes de España (1999).

19. ¿Por qué España ha tenido casi siempre déficit en su Balanza Comercial? ¿Por qué el déficit es hoy menor?
20. Después de analizar los datos adjuntos, haz un balance del comercio exterior español.





Mapa de las áreas turísticas españolas.

AÑO	NÚMERO DE VISITANTES EN I
1975	30.123
1980	38.027
1981	40.129
1982	42.001
1983	41.263
1984	42.931
1985	43.235
1986	47.389
1987	50.545
1988	54.578
1989	54.058
1990	52.036
1991	53.491
1992	55.331
1993	57.259
1994	61.428
1995	63.255
1996	61.795
1997	64.552
1998	70.800
1999	76.392
2000	74.437

Cifras básicas del turismo en España (1975-2000)

Parques Nacionales
Espacios Naturales Protegidos declarados
Reservas de caza mayor
Cotos Nacionales de caza mayor
Estaciones Termiales
Aeródromos deportivos privados
Campos de Vuelo
Clubs hípicas y otras instalaciones hípicas (federados)
Hipódromos
Campos de Golf (de 9 o más hoyos)
Casas de Juego
Flota de embarcaciones de recreo
Puertos deportivos
Puntos de amarre
Estaciones de esquí
Equipamientos deportivos (remontes)
Longitud de litoral español (km de costa)

Los recursos turísticos de España (1999).

21. Con las cifras básicas del turismo en España, elabora una gráfica lineal y coméntala.
22. ¿Por qué es tan importante el turismo en España? Dedúcelo del texto de la derecha.
23. Fíjate en el mapa de áreas turísticas de España. Después de consultar tu atlas escribe el nombre de los grandes centros turísticos de nuestras costas. ¿Cuáles son los principales núcleos turísticos de tu comunidad autónoma? ¿Por qué?
24. Indica, tras analizar la tabla de los recursos turísticos de España, cuáles son los atractivos turísticos de nuestro país.

*“Todos aquellos agentes involucrados en la toma de decisiones que afecten al turismo deben tomar conciencia del valor que la actividad turística supone para nuestra economía y de cómo su actuación puede beneficiar de una forma determinante a un sector que es responsable del 11 % de nuestro PIB, que da empleo directo a 700.000 personas e indirecto a otras 500.000 y cubre más del 150 % de nuestro déficit comercial. La sociedad debe ser consciente del papel que el turismo ha jugado y juega no sólo sobre nuestra economía, sino también sobre nuestras relaciones internacionales o en nuestro enriquecimiento social y cultural. Sólo comprendiendo este carácter global de los efectos beneficiosos del turismo estaremos en condiciones de afrontar con éxito los numerosos retos que el nuevo siglo nos tiene reservados.*

*El turismo está llamado a ser la industria con mayor capacidad de crecimiento y mejores expectativas de creación de empleo del siglo XXI.”*

ELENA PISONERO, Secretaria de Estado de Turismo. *El País*, 1999

